

# Kognitivní testy III

Filip Oliva  
Projektový manažer SHARE v ČR

Duben 2022

**Cíl:**

Schopnost kopírovat čtyři geometrické tvary

Zapojení těla

Kontrola, zda má R vnímání strukturních obrazců

Koordinace oko-ruka

**Postup:**

Dejte respondentovi pracovní list ke kreslení (1 pracovní list na geometrický tvar)







Respondenti mohou chyby mazat; měla by se použít tužka

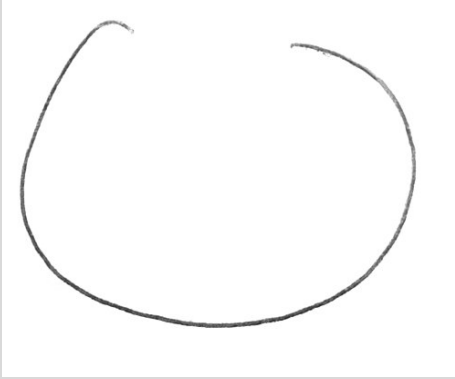
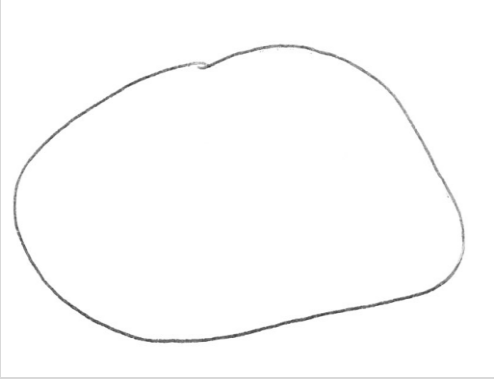



Je povolena 1-2 minuty na tvar

Umožněte opakovaně začít, ale nepodporujte opakované pokusy

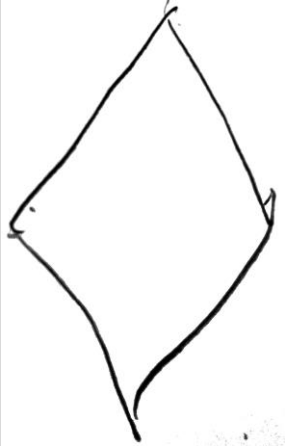
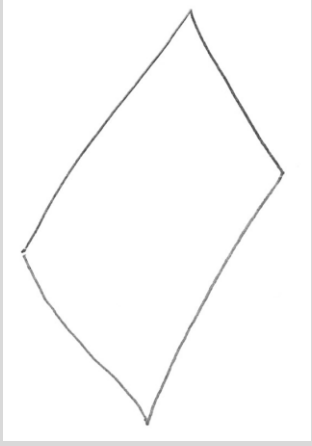
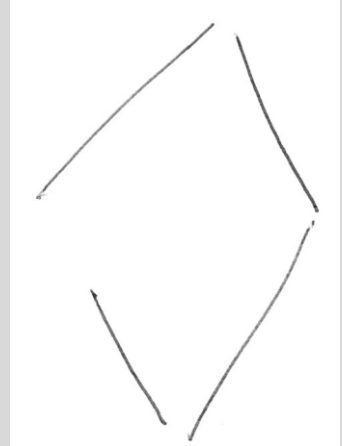









Skórujte poslední pokus nebo ten, který uvedl respondent


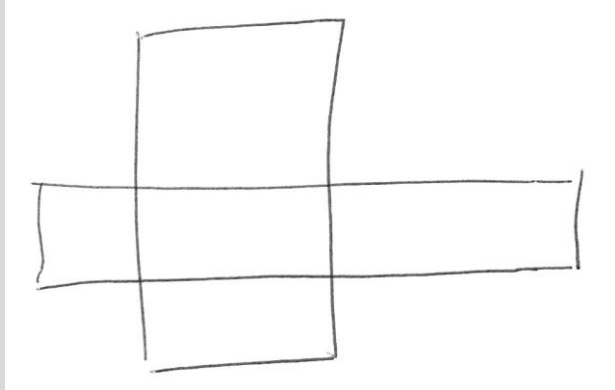




Kód, zda nákres splňuje kritéria


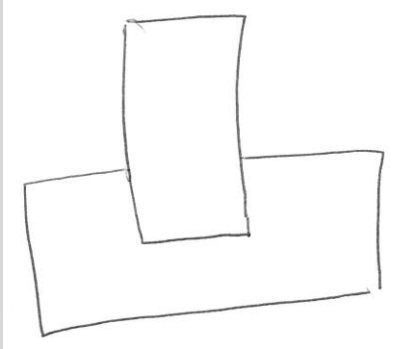
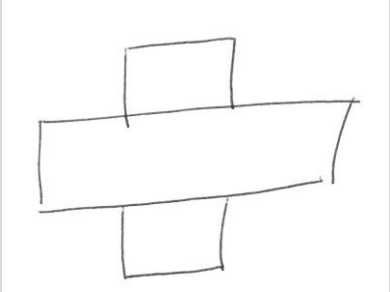



Licencovaný materiál		
Nakreslil respondent kruhový tvar?		
Nakreslil respondent uzavřený kruh?		

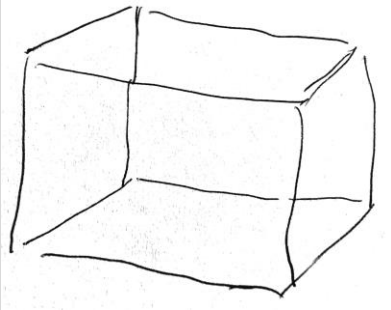
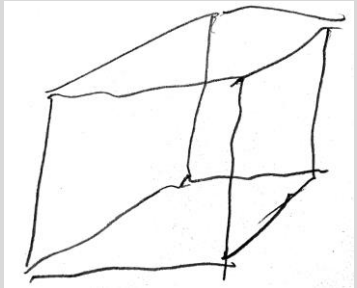
Licencovaný materiál		
Nakreslil respondent kruhový tvar?		
Nakreslil respondent uzavřený kruh?		N/A

## Konstrukční praxe CERAD (HRCP)

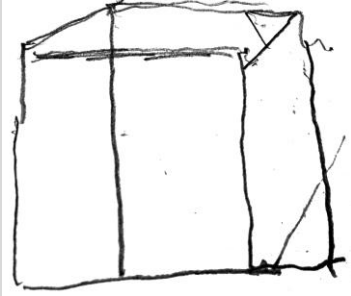
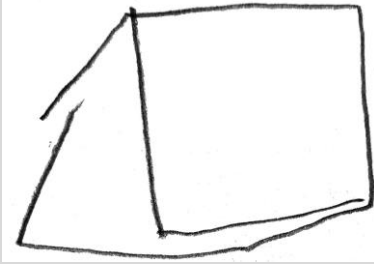
Licencovaný materiál			
Nakreslil respondent 4 strany?			
Uzavřel respondent všechny 4 úhly obrazce?			
Nakreslil respondent všechny strany přibližně stejně dlouhé?			

<b>Licencovaný materiál</b>		
Nakreslil respondent oba obrazce o 4 stranách?		
Nakreslil respondent přesahy, které se podobaly originálu?		

<b>Licencovaný materiál</b>			
Nakreslil respondent oba obrazce o 4 stranách?			
Nakreslil respondent přesahy, které se podobaly originálu?	N/A	N/A	N/A

Licencovaný materiál		
Nakreslil R trojrozměrný obrazec?	✓	✓
Nakreslil R přední stranu správně orientovanou (lhostejno zda doleva či doprava)?	✓	✓
Nakreslil R vnitřní čáry správně?	✓	✓
Nakreslil R opačné strany, které jsou rovnoběžné (do cca 10 stupňů)?	✓	✗



Licencovaný materiál		
Nakreslil R trojrozměrný obrazec?	✓	✗
Nakreslil R přední stranu správně orientovanou (lhostejno zda doleva či doprava)?	✓	N/A
Nakreslil R vnitřní čáry správně?	✗	N/A
Nakreslil R opačné strany, které jsou rovnoběžné (do 10 stupňů)?	✗	N/A

- **Postup:**
  - Požádejte R, aby si vzpomněl na geometrické tvary
  - Požádejte o jejich překreslení z paměti
  - Pro tento test je třeba prázdný list papíru (pracovní list 8) a tužka
  - Nechte respondenta až 8 minut nakreslit všechny 4 tvary (2 minuty na tvar)
  - Ohodnoťte nové kresby stejným způsobem jako dříve

- ▶ Testy rychlosti a pozornosti.
- ▶ Materiály
  - ▶ Pracovní sešit #7 → použijte tištěnou kopii
  - ▶ Propiska nebo tužka



Posílá se zpět

- ▶ Stopování →



90 sekund

## Modalita symbolů a číslic (HRSD)

- ▶ Vysvětlete úkol pomocí tištěné kopie.
- ▶ Požádejte respondenta, aby vyplnil každé prázdné pole odpovídajícím číslem symbolu.
- ▶ Nechte respondenta dokončit 10 cvičení.
- ▶ Upozorňovat a opravovat chyby během tréninkového kola.

⊂	÷	⊢	⊥	⊤	>	+	)	÷
1	2	3	4	5	6	7	8	9

**Skórování:** Není. Pošlete zpět vyplněný výtisk testu.

# Otázky

